

地図の利用と町のようす

名前

学習日

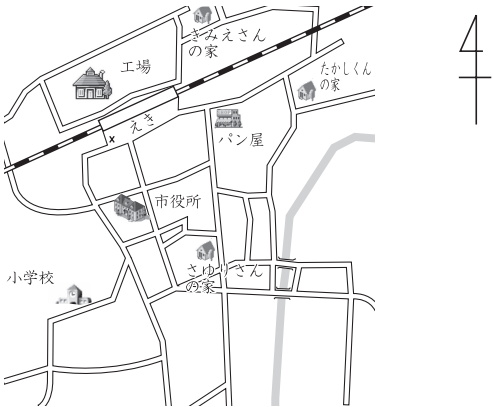
ポイント

- ① 町のしせつやおもなたてものは、地図記号によってあらわすことができる。
- ② 地図からは、町のしせつやその他のたてものの方いの関係がわかる。
- ③ 地図を見ると、土地がどのように利用されているかがわかる。

きほん問題



次の地図を見て、1～5にあてはまるものをそれぞれえらび、記号で答えなさい。



(1) えきの南にあるのは、1です。

- ア パン屋さん
- イ 工場
- ウ たかしくんの家
- エ 市役所

(2) さゆりさんの家から見て、小学校は2の方いにあります。

- ア 北
- イ 南
- ウ 東
- エ 西

(3) えき前ひろばには、3があります。

- ア パン屋さん
- イ 小学校
- ウ 交番
- エ 市役所

(4) たかしくんの家から見て、きみえさんの家は、4の方いにあります。

- ア 北西
- イ 南東
- ウ 北東
- エ 南西

(5) 地図中の小学校は、5の地図記号であらわされます。

- ア ㊦
- イ ㊧
- ウ ㊨
- エ ㊩

地図の利用と町のようす

名前

学習日

チャレンジ問題

1

次は、わたしたちの町にあるしせつについての説明です。それぞれのしせつやたてもののことを説明していますか。下のア～カのなかから1つ選び、記号で答えなさい。

- (1) お金をあずけたり、家をたてるときに、お金を借りたりする。また、外国に旅行するときに、日本のお金をその国のお金にかえたりする。 ☐
- (2) 住宅地とはなれた広い場所に、いろいろな工場がたくさん集まって、トラックもさかんに行き来している。 ☐
- (3) 大きなビルのなかに、いろいろな種類の品物をたくさんならべて、売っている。 ☐
- (4) 高速道路へ入るときや、高速道路からふつうの道路へ出るときに利用するところ。 ☐
- (5) やさいやさかななどの生産物が集められ、ここで、お店の人が、商品を仕入れる。 ☐

- |        |            |
|--------|------------|
| ア 病院   | イ インターチェンジ |
| ウ 工業団地 | エ 市場       |
| オ デパート | カ 銀行       |

2

わたしたちの町の地図を見て、どんなことがわかりますか。正しいものを3つ選んで、記号で答えなさい。

- ア 市役所から見て、けいさつしょはどの方いにあるか。
- イ 図書館では、どんな本が多く読まれているか。
- ウ 町のひとたちは、どのような生活をおくっているか。
- エ 市役所は、どのえきに一番ちかい。
- オ えき前のビルの高さは、なんメートルあるか。
- カ 川のまわりの土地は、どのように利用されているか。



☐ ☐ ☐

3

学校のまわりのようすを絵地図にあらわすとき、どんなことに注意するとよいですか。方いの面と目じるしの面から考えて、2つ答えなさい。

地図の利用と町のようす

【きほん問題】

かい 答	アドバイス
<div></div> <div>(1) エ (2) エ (3) ウ (4) ア (5) イ</div>	<div></div> <div>地図には方い記号<small>きごう</small>がつけられています。方い記号の矢<small>や</small>じるしは上のほうを向いているのがふつうで、その先は北をさしています。</div> <div>交番などの小さなたてものをあらわすには、地図記号がべんりです。</div> <div>方い記号は、矢じるしから時計まわりに、北→東→南→西となりますが、そのまん中の方いは、北と東のあいだが北東で、それからじゅんに、南東→南西→北西となります。</div>

地図<sup>りよう</sup>の利用と町のようす

【チャレンジ問題】

かい 答	アドバイス
<div>1</div> <div>(1) カ</div> <div>(2) ウ</div> <div>(3) オ</div> <div>(4) イ</div> <div>(5) エ</div> <div>2</div> <div>ア</div> <div>エ</div> <div>カ</div> <div>3</div> <div>(かい答例)</div> <div>・方いにはよく注意<sup>ちゅうい</sup>をはらう。</div> <div>・目じるしとなる大きなたてもの<sup>どうろ</sup>や道路、川などを書きこむ。</div>	<div>1</div> <div>工場が集まってたっているところを工業<sup>こうぎょうだんち</sup>団地といいますが、とくべつに土地を用意して、住宅<sup>じゅうたく</sup>を集めてたてたところを、住宅団地、または、かんたん<sup>い</sup>に、団地といっています。</div> <div>市場<sup>いちば</sup>では、なかがい人という人がいて、ねだんをきそわせながら売ります。</div> <div>2</div> <div>地図からは、方いやきより、土地の利用のしかたなどがわかります。</div> <div>3</div> <div>絵地図をうまく書くには、方いに注意して、道路や川、鉄道<sup>てつどう</sup>などがどのようにとおり、大きな目じるしとなるたてものがどこにあるかを書きこんでいくようにします。</div>